

# 2022 年度 一般入試 第 1 回

## 社 会

### 〔注意事項〕

- 1 問題は 1 から 3 までです。
- 2 時間は社会と理科あわせて 50 分です。
- 3 特に指定がない場合、ひらがなで書いてもかまいません。
- 4 下敷きおよび電算機したじつきの時計の使用を禁止します。
- 5 解答は、濃くはっきりと書くようにして下さい。
- 6 開始の合図があるまで問題用紙を開かず、手を触れないで下さい。
- 7 考査中はよそ見をせず、きちんとした態度で行って下さい。
- 8 何か物を落としたら、黙だまって手をあげて下さい。
- 9 他の受験生に迷惑めいわくとなるような行為こういをしないで下さい。

1 小学生のユウタさんは昨年開催された東京 2020 オリンピック・パラリンピックに興味をもち、夏季オリンピックについて調べてみました。次の年表は 1980 年以降に開催された夏季オリンピックの開催都市と ( ) の中は開催国です。これに関して後の問に答えなさい。なお国名は開催当時の国名です。

1980 年	モスクワ (ソビエト連邦)	2004 年	アテネ (ギリシャ)
1984 年	ロサンゼルス (アメリカ合衆国)	2008 年	北京 (中華人民共和国)
1988 年	ソウル (大韓民国)	2012 年	ロンドン (イギリス)
1992 年	バルセロナ (スペイン)	2016 年	リオデジャネイロ (ブラジル)
1996 年	アトランタ (アメリカ合衆国)	2021 年	東京 (日本)
2000 年	シドニー (オーストラリア)		

問 1 ユウタさんは、この中に日本が参加しなかった大会があったことを知りました。次の A と B の文を読み、日本が参加しなかった大会はモスクワ大会とロサンゼルス大会のどちらの大会だったか答えなさい。

A 1980 年に開催されたモスクワ大会は、前の年にソビエト軍がアフガニスタンに侵攻したことを理由に、ソビエト連邦と対立していたアメリカ合衆国をはじめとする多くの国々が参加しなかった。

B 1984 年に開催されたロサンゼルス大会は、アメリカ合衆国などの国々がモスクワ大会に参加しなかったことへの報復として、ソビエト連邦をはじめとする多くの国々が参加しなかった。

問 2 ユウタさんは 1980 年から 2021 年までのオリンピック開催都市や開催国について詳しく調べました。オリンピックに関する以下の文のうち、正しいものを下の (ア) ~ (オ) から 2 つ選び、記号で答えなさい。

- (ア) リオデジャネイロは日本から最も遠い開催地であり、東京からの直線距離は約 40,000 km である。
- (イ) イスラム教を信仰する人が多数を占める国での開催はない。
- (ウ) 開催都市のうち首都はモスクワ、ロサンゼルス、ソウル、北京、リオデジャネイロである。
- (エ) 開催国のうち現在の EU (ヨーロッパ連合) 加盟国は、スペイン、ギリシャ、イギリスである。
- (オ) 日本との貿易額が多い国は中華人民共和国、アメリカ合衆国の順である。

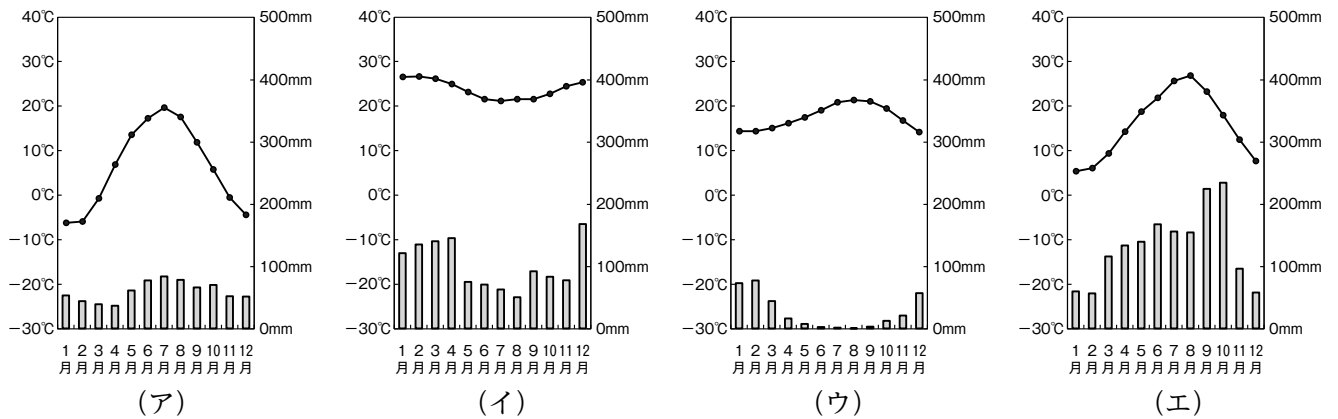
問 3 ユウタさんは、これまで一度もオリンピックが開催されたことのない大陸があることに気づきました。それはどこですか、下の (ア) ~ (エ) から 1 つ選び、記号で答えなさい。

- (ア) アフリカ大陸
- (イ) ユーラシア大陸
- (ウ) 北アメリカ大陸
- (エ) 南アメリカ大陸

問4 ユウタさんは開催都市の気候を調べました。下は4つの開催都市の雨温図です。これについて後の設問に答えなさい。

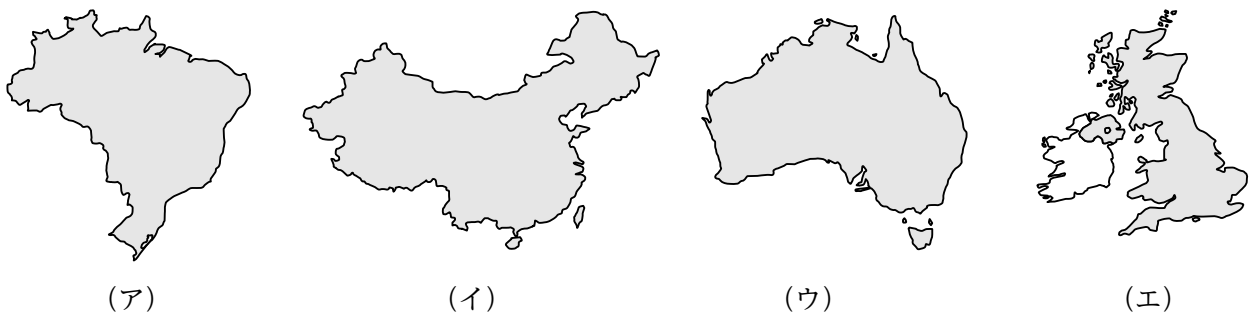
設問1 東京の蒸し暑さは選手には厳しい環境だったようです。東京の雨温図を下の(ア)～(エ)から1つ選び、記号で答えなさい。

設問2 前回大会の開催都市リオデジャネイロの雨温図を、下の(ア)～(エ)から1つ選び、記号で答えなさい。



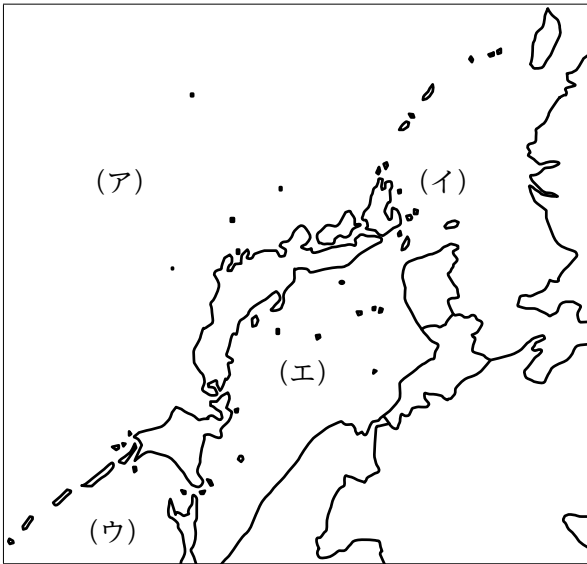
※データは1991年～2020年を使用、ただし(イ)のみ1981年～2010年のデータ  
気象庁ホームページより作成

問5 ユウタさんは、開催国の形に興味を持ちました。下の地図はオリンピック開催国のオーストラリア、中華人民共和国、イギリス、ブラジルのものです。縮尺はそれぞれ異なります。中華人民共和国とブラジルにあたるものを下の(ア)～(エ)から1つずつ選び、記号で答えなさい。



問6 ユウタさんはオリンピックの開会式をテレビで見ました。難民選手団の入場に関心を持ち、難民について調べてみました。東京オリンピックでは29人の難民選手団がおり、その中でシリアの9人、イランの5人、南スーダンの4人、アフガニスタンの3人がとくに多いようです。難民選手団の難民とはどのような立場の人たちですか、答えなさい。

2 大陸から見た日本列島の地図を見て、後の問に答えなさい。



A

日本は海に囲まれた島国です。暖流と寒流がぶつかる海などの環境に恵まれ、昔から大陸とも交流してきました。北海道は古くから先住民族が居住し、土器を用い、狩りや漁、<sup>(1)</sup>オホーツク海沿岸地域などとの交易を行い、独自の文化を生み出しました。また、<sup>(2)</sup>縄文時代の北海道や北東北では、農業に移行せず、採集や狩猟を基盤とした定住社会が発達しました。その文化的価値が認められ、2021年に「北海道・北東北の縄文遺跡群」がユネスコの世界文化遺産に登録されました。これは集落や墓地、<sup>(3)</sup>祭祀・儀礼の場である環状列石など、人々の生活の実態を示す17の遺跡で構成され、大規模な拠点集落跡の三内丸山遺跡や、石を円状に配置したストーンサークルで知られる大湯環状列石などが含まれています。

問1 下線部(1)の場所を、上の地図の(ア)～(エ)から1つ選び、記号で答えなさい。

問2 下線部(2)の遺跡から発見されることがある、食べ残しや魚や獣の骨、人骨などがつもった跡を何と言いますか。

問3 下線部(3)がある県を、次の(ア)～(エ)から1つ選び、記号で答えなさい。

(ア) 岩手県                      (イ) 青森県                      (ウ) 秋田県                      (エ) 山形県

B

古代には、日本海において大陸との交流が行われていました。大陸の国の<sup>ぼっかい</sup>渤海からの使者が日本海を渡って日本へやって来ました。日本からも遣渤海使が派遣され、密接な外交交渉・交易が行われていました。また、東北地方は<sup>えみし</sup>蝦夷という人々がおさめていましたが、平安時代になると朝廷は東北地方への支配を進め、(4)天皇が坂上田村麻呂を征夷大將軍に任命して大軍を送り、朝廷支配がさらに北へ広がりました。

北海道(<sup>えぞち</sup>蝦夷地)では、(5)民族が漁業や狩猟で生活していましたが、15世紀から本州の人々に移り住み、交易を行う一方で、彼らの暮らしを圧迫しました。江戸時代に松前藩が置かれて支配を強めていきましたが、(5)民族は樺太をへて中国東北地方とも交易していました。明治時代に北海道は開拓が進められ、官営工場や<sup>(6)</sup>農学校が建設されました。

(6)

問4 平安京を建設した( 4 )にあてはまる天皇の名前を漢字で答えなさい。

問5 ( 5 )にあてはまる語句を答えなさい。

問6 クラーク博士が指導した下線部(6)が建設された場所を、次の(ア)～(エ)から1つ選び、記号で答えなさい。

(ア) 旭川                      (イ) 帯広                      (ウ) 函館                      (エ) 札幌

C

沖縄では15世紀初め、尚氏が( 7 )を建て、首里を都にしました。( 7 )の人々は日本や朝鮮と貿易したり、東シナ海を渡って中国の明へ、さらには南シナ海から東南アジア各地に進出し、中継貿易で活躍しました。江戸時代になると薩摩藩の支配を受けながら、清に朝貢しました。

明と日本の貿易においては、室町幕府の第3代将軍( 9 )が日本国王として明に朝貢する形をとり、貿易船に割り印のある勘合を持たせた勘合貿易が行われました。

問7 ( 7 )にあてはまる国の名前を答えなさい。

問8 下線部(8)の場所を、前ページの地図の(ア)～(エ)から1つ選び、記号で答えなさい。

問9 ( 9 )にあてはまる人物の名前を漢字で答えなさい。

問10 下線部(10)に関して、なぜ勘合貿易が行われたのか、理由を書きなさい。

D

明治時代になると、( 7 )は藩になり、さらに1879年に沖縄県が設置されて日本の領土になりました。その後、日本は朝鮮半島や中国大陸に進出していきました。やがて太平洋戦争が始まり、1945年にアメリカ軍が沖縄に上陸して地上戦が行われ、沖縄の多くの住民が犠牲になりました。沖縄は戦後もアメリカの占領・施政権下に置かれていましたが、( 11 )年に日本への復帰が実現しました。自然としては、「奄美大島、徳之島、沖縄島北部及び西表島」は温暖・多湿な亜熱帯性気候で多雨林が広がっているため、独特の進化を遂げた種が豊富に分布する生物多様性を保全する場所として、2021年にユネスコの世界自然遺産に登録されました。アマミノクロウサギやイリオモテヤマネコなどの希少種が多く生息しています。

問11 ( 11 )にあてはまる数字を、次の(ア)～(エ)から1つ選び、記号で答えなさい。

(ア) 1955                      (イ) 1969                      (ウ) 1972                      (エ) 1989

問12 下線部(12)がある県を、次の(ア)～(エ)から1つ選び、記号で答えなさい。

(ア) 鹿児島県                      (イ) 沖縄県                      (ウ) 熊本県                      (エ) 東京都

3 次の会話文を読み、後の問に答えなさい。

たみお君 2021年秋は衆議院議員選挙が行われたよね。政治の場に自分の意見を届ける手段で有力なものが選挙だと思<sup>(a)</sup>う。ぼくたちが政府のやり方がおかしいと思えば、選挙で自分の意見を示すことができるんだ。これは日本国民に生れながらに認められている基本的人権の一つだけど、この権利は昔から保障されていたものではないよね。

のりお君 そうそう、(1)選挙法が改正される1945年前までは、(2)歳以上の男子にしか選挙権がなかったんだ。しかも、明治時代は自由民権運動によって内閣制度が確立した後でさえ、選挙権を持つのは直接国税を15円以上納める(2)歳以上の男子に限られていた。だから、20歳以上のすべての日本国民に選挙権が与えられたのは、日本の歴史で見れば最近のことだし、18歳以上に選挙権が引き下げられたのはもっと最近のことだよ。

たみお君 確かに、基本的人権が認められたのも日本国憲法に変わったからだよね。大日本帝国憲法ではぼくたちではなく(3)が主権者だったから、ぼくたちは政治のあり方を決められなかったし、国民の権利は法律で制限されていた。でも日本国憲法の施行とともに、ぼくたちに与えられた権利や立場が三原則として明確になったよね。三原則の一つ目は、国の政治のあり方を決める権限がぼくたちにあるという(4)主権で、それは憲法の前文に明記されている。二つ目が基本的人権の尊重だよ。これは日本国憲法第11条で「侵すことのできない永久の権利として、現在及び将来の国民に与えられる」と規定されている。そして、三つ目が平和主義。憲法の前文では、国際協調による平和主義が宣言され、憲法の第(5)条でも戦争の放棄や、戦力の不保持、交戦権の否認が定められているものね。

のりお君 (4)主権も基本的人権もぼくたちに与えられた権利だけど、同時に義務も負っているよね。ぼくたちが学校に通うことができているのも、国民の義務に「子どもに(1)教育を受けさせる義務」があるからだよ。ぼくたちは権利を与えられつつ義務も負っているんだね。義務っていうと重い感じがするけれど、学ぶことなしには権利の意味や選挙の意味だって分からないから、義務とされていることでぼくたちの基本的人権が逆に保障されている面があると思う。

たみお君 ここのところ選挙での投票率の低さが問題になっているけれど、それって自分に与えられた権利を放棄することにつながるよね。権利を獲得するために、どれだけ多くの人が奔走したのかを考えると胸が痛むよ。大正時代の(6)の女性解放運動や差別からの解放をめざす全国水平社の運動は基本的人権を求めた戦いだったんだよね。

まなぶ君 ぼくたちが未来に向けてやるべきことは、与えられている権利と義務についてもう一度しっかり考えていくことだと思う。女性の解放運動に奔走した(6)や全国水平社の精神は、今度は「女性」ってなんだろう、「男性」ってなんだろうって考えていくことにつながると思うんだ。一人の人間が、女であることや男であること、またそのいずれでもないことで苦しめられたり差別されたりしてはいけないし、同時にその人が大切に思っていること(女であったり、男であったり、そのどちらでもないと思ったりすることすべて)が守られる社会をつくっていくべきだと思う。それこそが本当のバリアフリーな社会だよ。そのためには、ぼくたちは(1)教育を受けて、しっかり学ばなければいけないね。選挙権がもらえる18歳までの期間を無駄にしたくないな。

問1 空らん( 1 ) ~ ( 6 )にあてはまる語句や数字を答えなさい。( 6 )は人名である。なお、( 2 ), ( 5 ), ( 6 )以外の語句はすべて漢字で答えること。

問2 下線部(a)の任期は4年であるが、参議院の任期は6年と任期が異なっている。それ以外の両者の違いについて答えなさい。

問3 下線部(b)に関して、日本は1945年8月に何を受諾したかを答えなさい。

問4 下線部(c)に関して、「子どもに( 1 )教育を受けさせる義務」以外の国民の義務を1つ答えなさい。

問5 下線部(d)を実現するために、会話文の例以外であなたが実現するべきだと思うことを答えなさい。

問6 会話文の結論として最も正しいものを、次の(ア) ~ (エ)から1つ選び、記号で答えなさい。

(ア) 政治の場に国民の声を届ける唯一の手段が選挙であり、投票率が低いというのは国民の義務の放棄につながる。そのため、法律によって日本国民全員が選挙で投票をしなければならないようにするべきである。

(イ) 選挙権は基本的人権の一つであり、長い歴史の中で日本国民が獲得してきた権利である。国民の意見を政治に反映させるためにも選挙権は最も重要な権利であり、この権利を守り通すことが一番大切である。

(ウ) 基本的人権は日本国民に与えられた権利であるが、同時に日本国民には義務も課されている。そのため、義務を果たさない日本国民には権利が与えられるべきではなく、基本的人権は<sup>はくたつ</sup>剥奪されるべきである。

(エ) 選挙権は基本的人権の一つであるが、長い歴史の中で日本国民の努力によって獲得してきたものである。そのことも踏まえて、権利と課されている義務についてしっかり考えていくことが、より良い日本社会をつくる上で大切である。

